



**ECOLE NATIONALE D'ADMINISTRATION**  
au cœur de la transformation de l'action publique

## CONCOURS DIRECT D'ENTRÉE EN 2026 AU CYCLE MOYEN SUPÉRIEUR DE L'ENA

SESSION : AVRIL 2025

### ÉTAPE DE PRÉSÉLECTION

Épreuve écrite d'admissibilité.

Date : samedi 26 avril 2025.

Durée : 3 heures.

Coefficient : 2 par matière.

Barème de notation :

- Bonne réponse = 1 point ;
- Pas de réponse = 0 point ;
- Mauvaise réponse = - 1 point.

N°	QUESTIONS	RÉPONSES
<b>APTITUDE VERBALE ET CULTURE GÉNÉRALE</b>		
01	L'expression « petite reine » est-elle ..... ?	a) une métaphore. b) une comparaison. c) une litote.
02	Le synonyme de périliter est .....	a) incliner. b) décliner. c) repousser.
03	L'antonyme de feint est .....	a) authentique. b) artificiel. c) réuni.
04	Un jeune individu qui ne distingue pas avec netteté les objets très rapprochés est .....	a) hypermétrope. b) myope. c) presbyte.
05	Il a fait une chaleur ..... est restée chez elle toute la journée.	a) telle qu'elle b) tel qu'elle c) tel quel
06	Il faudrait que ..... avant la fin de l'heure.	a) j'ai terminé b) j'ait terminé c) j'aie terminé
07	Quel enfant n'a jamais ..... d'être malade pour ne pas aller en classe ?	a) fein b) feint c) feind
08	Tu apprécieras l'exactitude des renseignements et ..... précisions.	a) leur b) ta c) sa



09	Le synonyme de lymphatique est .....	a) excité. b) nonchalant. c) sanguinolent.
10	Cette altercation avec son patron l'a rendu .....	a) fou allié. b) fou à lier. c) fou allier.
11	Quel est le nom du Premier Président de l'Union Africaine ?	a) Thabo Mbeki. b) Muhammad Kadhafi. c) Denis Sassou N'guesso.
12	La ville qui abrite le festival international du cinéma est :	a) Hollywood. b) Cannes. c) Paris.
13	Quelle est l'année du génocide au Rwanda ?	a) 1984. b) 1994. c) 1998.
14	La Rhodésie du Sud s'appelle aujourd'hui .....	a) Congo. b) Zimbabwe. c) Tanzanie.
15	Qu'est-ce que la municipalité ?	a) L'organe composé des conseillers municipaux. b) L'organe composé du Maire et de ses adjoints. c) L'organe composé du Maire et de ses conseillers.
16	Comment s'appelle le plus petit os du corps Humain ?	a) L'étrier. b) La rotule. c) Le marteau.
17	Un collectionneur de livres est un .....	a) bibliothécaire. b) bibliophile. c) bibliophiliste.
18	L'exécutif de la commune est :	a) Le comptable public. b) le Maire. c) Le secrétaire général.
19	Que mesure-t-on avec l'échelle de Richter ?	a) La fonte des glaces. b) Les séismes. c) La force des vents.
20	Quel est le plus grand continent du monde ?	a) L'Afrique. b) L'Amérique. c) L'Asie.

**ANGLAIS**

**Use the good quantifier.**

21	Troubles came ..... surprise.	a) a like not any ' b) as not any ' c) as no '
22	Economic growth has ..... stopped.	a) all but b) none too c) for all
23	Money is ..... he cares for in life.	a) which b) all c) that
24	Saly only remembers ..... advice as can be useful to her.	a) any b) so c) such
25	..... for this.Let's move on.	a) So much b) How much ? c) As much
26	N'zi is late again. .... surprising !	a) What is b) How c) So
27	After all, Oupoh is not ..... bad.	a) that b) all such c) so quite



## Choose the right term.

28	Papou and Rockylo did it on purpose or by accident is not the point.	a) Or b) Whether c) If
29	Enjoy the holidays ..... they last.	a) while b) during c) for
30	Phylo was not sure ..... to believe him or not.	a) how b) about c) whether
31	..... we invest in education, or our country won't be able to innovate.	a) Whereas b) Either c) However
32	We have not found the keys, ..... all our efforts.	a) despite b) whose c) because of


## Adopt the correct progress comparison.

33	As the years went by, they grew ..... apart.	a) sooner b) further c) older
34	Zero waste is a lot ..... than buying disposable product.	a) cheaper b) elder c) better
35	The more money you spend, the ..... your overdraft will be.	a) lesser b) nearer c) bigger
36	The show was ..... interesting than we expected it to be.	a) far more b) pacer c) wheeler

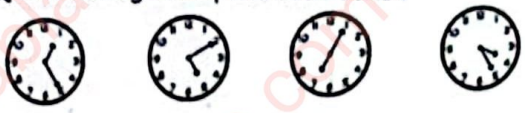








## Translate







37	Raïssa avait 28 ans et elle allait conquérir le monde.	a) Raïssa has 28 and she were gone to conquer the world. b) Raïssa was 28 and she was going to conquer the world. c) Raïssa is 28 and she was gone to conquer the world.
38	Adjoua ne savait pas ce qu'ils cherchaient.	a) Adjoua didn't know what they were looking for. b) Adjoua doesn't know what they are looking for. c) Adjoua hasn't know what they were looking for.
39	Aho Bamba demande si Tia Lou Sopie savait à qui appartenait les clefs.	a) Aho Bamba asks if Tra Lou Sopie knowed who the key b) Aho Bamba asked if Tra Lou Sopie knows who the key c) Aho Bamba asked if Tra Lou Sopie knew who the keys
40	Mabéa ne voulait pas seulement lui plaire.	a) Mabéa didn't only want to please her. b) Mabéa does not only wanted to pleased her. c) Mabéa don't only wanted to please her.

## APTITUDES NUMÉRIQUES ET LOGIQUE

41.	Devant une porte d'accès à un sauna se trouvent 4 serviettes, 12 chaussures et 5 sacs. Avec ces informations, combien pouvez-vous dire qu'il y a de personnes au minimum ?	a) 5 b) 6 c) 21
42.	Si Norbert est en pantalon, Émilie est en jupe, Nicole en blouson, que porte Régine ?	a) Short b) Chemisier c) Robe
43.	Quel est le mot qui complète cette série ? Ire Crie Acier .....	a) Idéale b) Rangée c) Claire
44.	Quel nombre remplace le point d'interrogation ? 	a) 65 b) 41 c) 54
45.	Quelle proposition complète cette série ? 875 533 667 214 752 329 991 148 .....	a) 436 b) 641 c) 956



46.	Quelle horloge complète cette série ? 	a)  b)  c) 									
47.	Complétez cette série de lettres : C K D M E O F Q G ..... .....	a) H R b) R H c) S H									
48.	Quelle proposition complète cette série ? 	a)  b)  c) 									
49.	Quel est le temps écoulé entre 19 h 48 min et le lendemain 7 h 22 min ?	a) 736 min b) 599 min c) 694 min									
50.	Complétez cette analogie : Pardon est à 437125 ce que Pondra est à .....	a) 457369 b) 425173 c) 452178									
51.	Continuez cette suite logique : 1 U 2 D 3 T 4 Q ..... .....	a) 5 X b) 5 Z c) 5 C									
52.	Camille nage plus vite que Joël. En moyenne, toutes les 30 secondes de nage, Camille prend 5 secondes d'avance que Joël. Si Joël réalise sa course en 5 minutes 5 secondes, en combien de temps Camille a fait cette course ?	a) 4 min 15 s b) 4 min 50 s c) 4 min 55 s									
53.	Quelle est la valeur du pentagone ? 	a) 5 b) 6 c) 7									
54.	Complétez cette série : <table border="1" data-bbox="111 1344 367 1500"> <tr><td>1</td><td>5</td><td>7</td></tr> <tr><td>2</td><td>6</td><td>8</td></tr> <tr><td>4</td><td>8</td><td>...</td></tr> </table>	1	5	7	2	6	8	4	8	...	a) 12 b) 11 c) 10
1	5	7									
2	6	8									
4	8	...									
55.	Complétez cette suite : Lisière Renom Omelette .....	a) Tendresse b) Théière c) Koala									
56.	Trouvez l'intrus : Vipère 6 Chaussou 15 Stop 17 Chocolat 20	a) Vipère 6 b) Stop 17 c) Chocolat 20									
	Anaïs, Benjamin, Céline, David, Émilie, Fabien et Gabin font partis d'une chorale. Ils sont placés les uns à côtés des autres. D'après les indications suivantes, placez ces 7 amis dans l'ordre : - Il y a une personne entre Émilie et Céline. - Fabien est au milieu. - Lorsqu'on regarde la chorale, Benjamin est à gauche de Gabin. - Anaïs est entre David et Émilie. - Gabin est entre deux personnes.	a) David - Anaïs - Émilie - Fabien - Céline - Gabin - Benjamin b) Benjamin - Gabin - Céline - Fabien - Émilie - Anaïs - David c) David - Anaïs - Émilie - Gabin - Céline - Fabien - Benjamin									

3.	Complétez cette analogie : Chien est à Berger ce que Cheval est à .....	a) Étalon b) Course • c) Équitation
59.	Quelle forme remplace le point d'interrogation ?    ?	a)  b)  c) 
60.	On dispose de deux carafes identiques : l'une est pleine, l'autre vide. Pour remplir la seconde, on utilise 1 litre et la moitié de l'autre carafe. À elles deux, elles peuvent contenir au maximum combien de litre ?	a) 2 L b) 3 L c) 4 L